




Štědrovečerní večeře

Co jíš při štědrovečerní večeři?


Kapra, jinou rybu než kapra (například lososa), vepřový řízek, kuřecí nebo krůtí řízek, smažený sýr, vinnou klobásu něco jiného?

1. Které z uvedených jídel byste dříve v jídelníčku nenašli a proč?


Kapra



Kuřecí nebo krůtí řízek




Vinná klobása




Losos



Vepřový řízek



Smažený sýr



2. Jsou tato jídla typická při štědrovečerní večeři například pro jiné země?

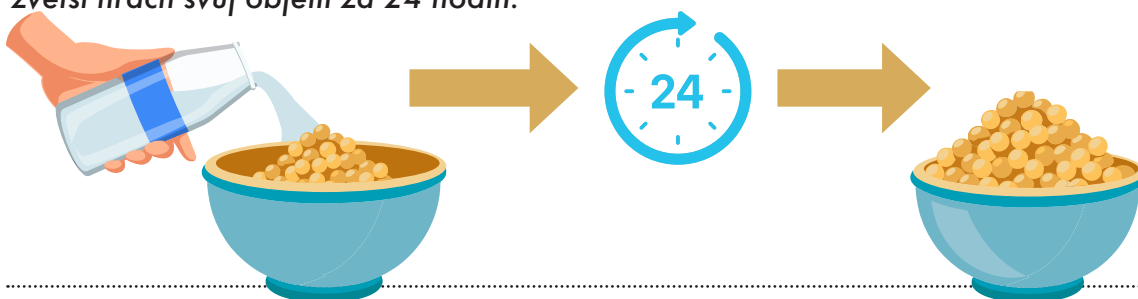
Štědrovečerní večeře	Země, pro který je tento pokrm typický na Štědrý večer
Kapra	
Losos	
Kuřecí nebo krůtí řízek	
Vepřový řízek	
Smažený sýr	
Vinná klobása	



3. Jaké další pokrmy byste našli v českém jídelníčku o Štědrém dnu? Měla jejich přítomnost právě v tento den nějaký význam?

4. Jednou z potravin, která je typická na štedrovečerním stole, je hrách. Hrách byl v minulosti znakem růstu bohatství. Je to proto, že hrách bobtná, a tudíž zvětšuje svůj objem.

Zjistěte pokusem, o kolik procent zvětší hrách svůj objem za 24 hodin.




5. Bohužel jsme si minulý rok nenechali nabobtnat hrách a naše bohatství se nerozrostlo. Nyní nastal čas Vánoc a my máme pocit, že nemáme dostatečné množství peněz na nákup dáreků. Zamyslete se nad tím, co v takové situaci uděláte.




6. Vzhledem k tomu, že jsme se rozhodli o těchto Vánocích trochu šetřit, k večeři nebudeme mít smažený vepřový řízek, ale smažený sýr. Je naše rozhodnutí správné (vzhledem k ceně potravin)?

Smažený řízek





Smažený sýr



K ověření rozhodnutí využijte například stránky <https://csu.gov.cz/vyvoj-prumernych-cen-vybranych-potravin-2024>.

7. Jaký je rozdíl mezi kaprem a lososem? Najdeš i jiné rozdíly, které nejsou uvedeny v tabulce?

	Losos 	Kapr 
Původ		
Typ vody, ve které žije		
Tvar těla		
Způsob života		
Barva masa		



8.

Podívejme se na vinnou klobásu.

Zjistěte, proč se jmenuje vinná klobása a vyhledejte recept.

Podíváme se na vinnou klobásu z hlediska matematiky.

O jaké těleso se jedná? Jaký je obvykle průměr tohoto tělesa a proč je přibližně stále stejný? Urči objem vinné klobásy, která má délku 15 cm. Je to více než čtvrt litru?



9.

Pokud budeme mít jeden metr dlouhou vinnou klobásu a stočíme ji na pánvičku do spirály, jak velkou pánvičku budeme potřebovat? (náповěda – podívej se na Archimédovu spirálu – použij zjednodušený vzorec). Prodává se tato velikost pánvičky?

10.

Pokud by vás zajímalo, jaké jídlo je tradiční štědrovečerní večeří v ostatních zemích EU, vytvořte si týmy, rozdělte si státy EU a vytvořte plakát (například v Canvě) k zemím, které si vyberete.